


**PRUEBA DE ACCESO A 4º CURSO DE ENSEÑANZAS  
ELEMENTALES**  
Ejercicio Teórico-Práctico

**NOMBRE Y APELLIDOS.:**  
**ESPECIALIDAD.:**

1ª.- Clasifica, Invierte y Clasifica el resultado de la inversión de los siguientes intervallos

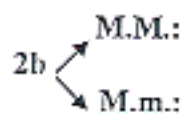
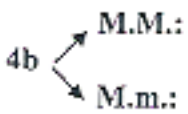
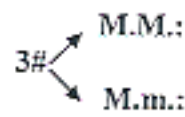
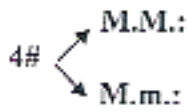


2ª.- Realiza la escala de Sol m en los cuatro tipos y nombra cada uno de ellos.





3ª.- Qué Tonalidades son con:



Pon las alteraciones (armadura) correspondientes a:

La M

Do m

Re M

Mi m



4ª.- Distingue entre Semitono Diatónico (D), Semitono Cromático (C),  
Enarmonía (E).



5ª.- Escribe una melodía en la Tonalidad de La M y en compás de 6/8

